



ADİYAMAN İL MİLLÎ EĞİTİM MÜDÜRLÜĞÜ

KAZANIM PEKİŞTİRME ÇALIŞMASI

LIFE FITS INTO HOME

HAYAT EVE SIĞAR



3. SINIF
11-16 MAYIS

4.
SAYI

BU KİTAPÇIKTA

TÜRKÇE	15 SORU
MATEMATİK	15 SORU
FEN BİLİMLERİ	15 SORU
HAYAT BİLGİSİ	15 SORU
İNGİLİZCE	10 SORU

Yer almaktadır.

Not: Cevap anahtarı soruların yayımlandığı günden sonraki pazartesi günü <http://adiyaman.meb.gov.tr/> duyurular sekmesinde açıklanacaktır.

Bu çalışmada yer alan Borsa İstanbul ilkokulu, Cumhuriyet İlkokulu, Mehmetçik İlkokulu, Menderes İlkokulu idareci ve öğretmenlerine teşekkürler...

ADİYAMAN MEM

2020

3. SINIF KAZANIM PEKİŞTİRME TESTİ

TÜRKÇE DERSİ

HATİCE'NİN SÜRPRİZİ

Çıkış zilinin çalmasına birkaç dakika kalmıştı. Hatice anlatılanların birçoğunu dinleyememişti. Çabucak eve gitmek, teyzesinin armağanı olan sulu boyalarla resim yapmak istiyordu. Bu saatlerde annesi, mutfakta yoğun bir çalışma içinde olurdu. Hatice'yi sevindiren de buydu. Kimsecikler görmeden en güzel resimleri yapıp dosyalayacaktı. Belki de bir gün, biriken resimleriyle, bir sürpriz yapıp herkesi şaşırtabilirdi. O zaman teyzesi, annesi, babası, hele de mızıkçı kardeşi, nasıl da şaşkına döneceklerdi kim bilir.

1, 2 ve 3. soruları yukarıdaki paragrafa göre cevaplayınız.

1. Hatice dersi niçin dinleyememişti?

- A) Karnı acıktığı için
- B) Hasta olduğu için
- C) Eve gidip resim yapmak istediği için

2. Hatice'nin yapmak istediği sürpriz nedir?

- A) En güzel resimleri dosyalayıp herkesi şaşırtmak
- B) Çizdiği resimlerle sergi açmak
- C) Kardeşinin resmini çizmek

3. Hatice kimleri şaşırtmak istiyor?

- A) Arkadaşlarını ve öğretmenlerini
- B) Büyük annesini, halasını, teyzesini
- C) Teyzesini, annesini, babasını, kardeşini

4. Aşağıdaki dizelerin hangisinde zıt anlamlı kelimeler birlikte kullanılmıştır?

- A) Uzun ince bir yoldayım.
- B) Gidiyorum gündüz gece.
- C) Bilmiyorum ne haldeyim.

Güzel yurdum dağlarını,
Uzaktan göresim gelir.
Keskin esen yellerine
Kendimi veresim gelir.

5. ve 6. soruları aşağıdaki dizelere göre cevaplayınız.

5. Aşağıdaki seçeneklerden hangisi şiire uygun bir başlık olur?

- A) Rüzgârlar
- B) Dağlar
- C) Yurt

6. Dörtlüğün ana duygusu nedir?

- A) Dağlara özlem
- B) Doğa sevgisi
- C) Yurt sevgisi

7. Aşağıdaki cümlelerden hangisinin sonuna nokta konulmalıdır?

- A) Sen mi okudun bu şiiri
- B) Güzel mi güzel bir ev gördüm
- C) Canım annem seni o kadar çok özledim ki

8. “Yaş” kelimesi aşağıdaki cümlelerin hangisinde farklı anlamda kullanılmıştır?

- A) Arabalar yaş zeminde kayar.
- B) Bu işlerin yaşı başı olmaz.
- C) Adam yaşamış, göreceğini görmüştü.

9. Aşağıdakilerden hangisi olumsuz tumdur?

- A) Kuzuları çok severim.
- B) Bu kalem benim değil.
- C) Hangi evde oturuyorsunuz?

10. “Kuş” ile “yuva” kelimeleri arasında bir anlam ilişkisi vardır. “İnsan” ile aşağıdakilerden hangisi arasında buna benzer bir ilişki olabilir?

- A) Ev
- B) Okul
- C) Çeşme

11. Aşağıdaki kelime gruplarından hangisi kurallı bir cümle değildir?

- A) Kırmızı patiğimi giydim.
- B) Çok güldüm kardeşimin yaramazlıklarına.
- C) Oyunun kurallarını bilmiyor musun?

12. Aşağıdaki cümlelerin hangisinde “karanlık” kelimesinin karşıt anlamı vardır?

- A) Geceleyin sokakta dolaşmak tehlikelidir.
- B) Lambayı söndürünce her yer kapkara oldu.
- C) Evimizin en aydınlık odası benim odamdır.

13. “Ali () yanıma geldiğinde nefes nefese kalmıştı ()” cümlesinde boş bırakılan yerlere sırasıyla hangi noktalama işaretleri yazılmalıdır?

- A) virgül (,) nokta (.)
- B) virgül (,) virgül (,)
- C) soru işareti (?) nokta (.)

14. Aşağıdaki kelimelerden hangisinin yazımı doğrudur?

- A) Sebze
- B) Yalınış
- C) Kiprik

15. Aşağıdaki cümlelerin hangisinde varlıkları niteleyen kelime yoktur?

- A) Yeşil biberlerin hepsi acı değil.
- B) Şahin'in resmi çok güzeldi.
- C) Böyle güzel okul sevilmez mi?

3. SINIF KAZANIM PEKİŞTİRME TESTİ

MATEMATİK DERSİ

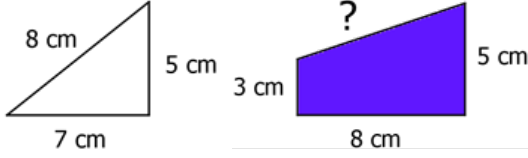
1. Aşağıdakilerden hangisi sıvı ölçme birimidir?

- A) Metre B) Santimetre C) Litre

2. 1 metrenin $\frac{1}{4}$ 'i kaç santimetredir?

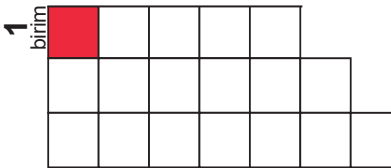
- A) 20 cm B) 24 cm C) 25 cm

3. Aşağıda verilen iki şeklin çevre uzunluğu birbirine eşittir. Buna göre mavi şeklin soru işareti ile verilen kenarı kaç cm'dir?



- A) 4 cm B) 5 cm C) 7 cm

4. Aşağıdaki birim karelerden oluşan şeklin boyalı kısmının alanı 1 birim kare ve birim karelerin bir kenarının uzunluğu 1 birim olduğuna göre şeklin çevresinin uzunluğu ve kapladığı alan hangi seçenekte doğru verilmiştir?



Çevresi

Alanı

- A) 18 birim 20 birim kare
B) 20 birim 18 birim kare
C) 21 birim 20 birim kare

5. Günlük 2 litre süt tüketen bir aile, 2 haftada kaç litre süt tüketir?

- A) 4 L B) 14 L C) 28 L

6. Aşağıdaki tabloda standart uzunluk ölçme birimlerinin olduğu kutuları maviye boyarsak şeklin boyalı hali nasıl olur?

Metre	Litre	Santimetre
Karış	Kilometre	Kulaç

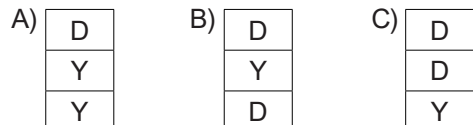


7. Aşağıda verilen seçeneklerden hangisi yanlıştır?

- A) 2 m 15 cm = 215 cm
B) 3 m 9 cm = 390 cm
C) 4 m 20 cm = 420 cm

8. Aşağıdaki tabloda verilen ifadeler doğru, yanlış şeklinde tamamlandığında hangi şekil ortaya çıkar?

4 tane yarım metre 200 santimetredir.	
5 metre 500 santimetredir.	
Uzunluk ölçme birimi kilogramdır.	



9. Aşağıda verilen şekilde bir ataşın boyu 4 cm olduğuna göre, kalemın boyu kaç santimetredir?

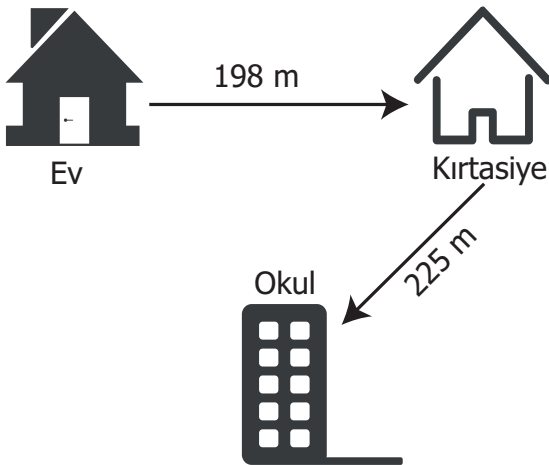


- A) 20 cm B) 25 cm C) 30 cm

10. 9 katlı bir binanın her katı 4 m uzunluğundadır. Bu binanın boyu kaç metredir?

- A) 13 B) 24 C) 36

11. Aşağıdaki şemada gösterildiği gibi evden sabah önce kırtasiye sonrada okula giden Emir kaç metre yol yürümüştür?



- A) 223 B) 413 C) 423

12. Aşağıda verilen kalemın boyu kaç santimetredir?



- A) 12 B) 13 C) 15

13. Aşağıdaki tabloda verilen uzunlukların kısıdan uzuna doğru sıralanışı hangi seçenekte doğru olarak verilmiştir?

235 cm	149 cm	253 cm

- A) B) C)

14. Efe'nin boyu annesinden 56 cm daha kısadır. Annesinin boyu 175 cm olduğuna göre Efe'nin boyu kaç santimetredir?

- A) 129 B) 121 C) 119

15. Metin 35 metrelik demir bir çubuğu 7 eşit parçaya ayırmıştır. Buna göre her bir çubuğun uzunluğu kaç cm dir?

- A) 500 cm B) 50 cm C) 5 cm

3. SINIF KAZANIM PEKİŞTİRME TESTİ

FEN BİLİMLERİ

1. Elektrik enerjisinde tasarruf için aşağıdakilerden hangisi yapılmaz?

- A) Gereksiz yanan ışıklar söndürülmeli
- B) Tasarruflu ampuller takılmalı
- C) Sabaha kadar salonun ışığı açık bırakılmalı

2. Doğru ve güvenli şekilde kullanılmayan elektrik aşağıdakilerden hangisine yol açabilir?

- A) Elektrikte tasarruf etmeye
- B) Elektrikli aletlerin ömrünün uzamasına
- C) Elektrik çarpmalarına

3. Bilgisayar hangi amaçla kullanılmaktadır?

- A) Aydınlanma
- B) İletişim
- C) Isınma

4. Aşağıdaki ifadelerden hangisi doğrudur?

- A) Çocukların güvenliği için prizlere koruyucu kapak takılmalı.
- B) Prizlere ıslak elle dokunulmalı.
- C) Prizlere çivi, vida benzeri şeyler sokulmalı

5. Aşağıdakilerden hangisi pil ile çalışmaz?

- A) Fener
- B) Kol saati
- C) Ütü

6. Aşağıdaki elektrikli araçlardan hangisi odamızı aydınlatır?

- A) Ütü
- B) Ampul
- C) Tost Makinası

7. Aşağıdaki cümlelerde boş bırakılan yerleri verilen sözcüklerden uygun olanı ile tamamladığımızda hangi seçenek doğru olur?

*Hasarlı elektrik kablolarına etmek çok tehlikelidir.

*Lüzumsuz yere yanan lambaları söndürmek elektriği kullandığımızı gösterir.

*Buzdolabı amacıyla kullanılır.

- A) soğutma, temas, aydınlatma
- B) temas, kaçak, ısıtma
- C) temas, tasarruflu, soğutma

8. Aşağıdakilerden hangisi kullandığı elektriği ısıtma görevi görmek için kullanır?

- A) Buzdolabı
- B) traş makinesi
- C) Ütü

9. Aşağıdakilerden hangisi elektrik kullanımında güvenli bir davranıştır?

- A) Islak elle prize dokunmak.
- B) Elektrikli ev aletlerini kullandıktan sonra fişini prizden çekmek.
- C) Telde elektrik olup olmadığını elimizle kontrol etmek.

10. Aşağıdakilerden hangisi hem ses hem görüntü hem de haberleşme amacıyla kullanılan elektrikli araçtır?

- A) Hoparlör B) Televizyon C) Müzik Seti

11. Aşağıdakilerden hangisi elektrik enerjisini ısı enerjisine çevirir?

- A) Elektrik sobası
B) Bisiklet
C) Tren

12. Aşağıdakilerden hangisi mutfakta kullandığımız elektrikli ev aletlerinden biri değildir?

- A) Su ısıtıcısı
B) Saç kurutma makinesi
C) Tost makinesi

13. İnsanları elektrik çarpmalarına karşı uyarmak amacıyla trafoların üzerine yerleştirilen uyarı levhası hangisidir?



14. Aşağıdaki ifadelerden doğru olanların başına (D), yanlış olanların başına (Y) yazınız.

- () Su ısıtıcısı, mikser (çırpıcı), meyve sıkacağı mutfaktaki elektrikle çalışan aletlerdir.
() Gereksiz yanan lambaları söndürmeliyiz.
() Ucu açık kablolarla dokunmamalıyız.
() Buzdolabı besinlerimizin bozulmadan saklanmasını sağlar.
() Elektrikli aletlerin fişi her zaman takılı olmalıdır.

15.

1	florasan lamba	a	ısınma
2	bulaşık makinesi	b	temizlik
3	elektrikli soba	c	aydınlanma

Yukarıdaki elektrikli araçlar ve kullanım alanları eşleştirildiğinde aşağıdaki şekillerden hangisi oluşur?

A)

1	c
2	a
3	b

 B)

1	c
2	b
3	a

 C)

1	a
2	c
3	b

3. SINIF KAZANIM PEKİŞTİRME TESTİ

HAYAT BİLGİSİ DERSİ

1. Halterde rekorlar kıran dünya şampiyonu sporcumuz kimdir?

- A) Naim Süleymanoğlu
- B) Aziz Sançar
- C) Mehmet Okur

2. Aşağıdakilerden hangisi Atatürk'ün kişisel özelliklerinden değildir?

- A) Kararlı olma
- B) Çalışkan Olma
- C) Aceleci olma

Sabiha Gökçen 1913 yılında, Bursa'da doğdu. Genç yaşta ailesini kaybeden Gökçen, Atatürk'e giderek okumak istediğini söyledi. Atatürk, Sabiha'yı evlatlık olarak öğrenim görmesini sağladı.

Yukardaki metne göre 3. ve 4. soruları cevaplayınız.

3. Sabiha Gökçen Atatürk'e niçin gitmiştir?

.....
.....

4. Sabiha Gökçen nerede ve kaç yılında doğmuştur?

.....
.....

5. İstiklal Marşı'mızın yazarı kimdir?

- A) Osman Zeki Üngör
- B) Mehmet Akif Ersoy
- C) Atatürk

6. Muhtar yönetiminden sorumludur. Cümlesindeki boşluğa hangisi gelmelidir?

- A) Mahalle
- B) Sokak
- C) Cadde

7. a) Vali I.(...) Köyün yöneticisidir.
b) Kaymakam II.(...) İlın yöneticisidir.
c) Muhtar III.(...) İlçenin yöneticisidir.

Noktalı yerlere harfleri yazdığımızda hangisi doğru olur?

	I	II	III
A)	c	b	a
B)	b	a	a
C)	c	a	b

8. Aşağıdaki yönetim birimlerinin büyüktен küçüğe sıralaması hangisidir?

- A) Kasaba-köy-il-ilçe
- B) Köy-il-ilçe-kasaba
- C) İl-ilçe-kasaba-köy

9. İlın yönetiminden kim sorumludur?

- A) Vali
- B) Kaymakam
- C) Muhtar

10. Atatürk'ün iyi bir komutan olduğunu aşağıdakilerden hangisi göstermektedir?

- A) Soyadı kanunu çıkarması.
- B) Kurtuluş savaşının kazanılması.
- C) Birçok yenilik yapması.

11. Aşağıdakilerden hangisi orman yangınlarının en önemli nedenlerinden biridir?

- A) Ağaçların bilinçsizce kesilmesi
- B) Piknik yapanların yaktıkları ateşi söndürmemeleri
- C) Evsel atıkların ormana atılması

12. Çevreyi korumanın en etkili yöntemi hangisidir?

- A) İnsanların çevre konusunda bilinçlendirilmesi
- B) Ağaç kesenlerin cezalandırılması
- C) Çevreyi kirletenlerin cezalandırılması

13. Heykelleriyle ünlü Nemrut Dağı hangi ilimizdedir?

- A) Adıyaman B) Şanlıurfa C) Mardin

14. Aşağıdakilerden hangisi herkesin kullanabildiği ortak kullanım alanlarından birisi değildir?

- A) Hastane B) Okul C) Ev

15. Aşağıdaki eserlerin karşısına bulunduğu şehirler yazılmıştır. Hangisinde yanlışlık yapılmıştır?

- A) Topkapı Sarayı → İstanbul
- B) Anıtkabir → Samsun
- C) TBMM → Ankara

3. SINIF KAZANIM PEKİŞTİRME TESTİ


İNGİLİZCE DERSİ

1. It is outside.



A) snowy B) rainy C) cloudy

2. How is the weather in Adıyaman?



A) sunny B) rainy C) foggy

3. How is the weather in Samsun?



A) snowy B) windy C) cloudy

4. It is



A) windy B) snowy C) cloudy

5. Is it rainy in the desert?



A) No. It is hot. B) Yes, it is. C) No, it is.

6. it warm in Isparta?

A) Do B) Is C) Are

7. It is in Ankara.



A) foggy B) windy C) sunny

8. It isin Erzurum.



A) warm B) hot C) freezing

9. Is it hot in Ağrı?.



A) Yes, it is. B) No, it isn't. C) No, it is.

10. It isoutside.



A) windy B) sunny C) rainy

3.SINIF 4. HAFTA KAZANIM PEKİŞTİRME ÇALIŞMASI

CEVAP ANAHTARI 11-15 MAYIS

TÜRKÇE	Matematik	Fen Bilimleri	Hayat Bilgisi	İngilizce
1-C	1. C	1. C	1.A	1. B
2-A	2. C	2. C	2.C	2. A
3-C	3. A	3. B	3.Okumak istediğini söylemek için.	3. C
4-B	4. B	4. A	4.Bursa'da, 1913 yılında doğmuştur.	4. B
5-C	5. C	5. C	5.B	5. A
6-C	6. A	6. B	6.A	6. B
7-B	7. B	7. C	7.C	7. A
8-A	8. C	8. C	8.C	8. C
9-B	9. A	9. B	9.A	9. B
10-A	10. C	10. B	10.B	10. A
11-B	11.C	11. A	11.B	
12-C	12.A	12. B	12.A	
13-A	13.A	13. C	13.A	
14-A	14.C	14. D, D, D, D, Y	14.C	
15-B	15.B	15. B	15.B	

**İnsanın kalbi engelli
olmasın zira bizi insan yapan
kolumuz bacağımız değil**

kalbimizdir...

